

Code

A

Total Printed Pages : 35

DRIVER

100053

OMR Sr. No. _____

Booklet Sr. No. _____

Time : 90 Minutes

Total Questions : 90

Max. Marks : 90

Roll No. (in Figure) _____ (in Words) _____

(Signature of the Candidate)

(Signature of the Invigilator)

IMPORTANT**DO NOT OPEN THE BOOKLET UNLESS YOU ARE ASKED TO DO SO****FIRST READ FOLLOWING INSTRUCTIONS CAREFULLY.**

1. The candidate will fill up required particulars including his/her roll no. and signature on the OMR sheet with ball point pen (Black/Blue) in the appropriate boxes.
2. Ten minutes before the commencement of the test, question booklet and OMR sheet will be distributed to the candidates.
3. Immediately on opening the question-booklet, the candidate should check the booklet & OMR sheet and ensure himself/herself that it contains 90 multiple choice questions (Sr. No. 1 to 90). Discrepancy, if any, should be reported by the candidate to the invigilator within 5 (five) minutes of the opening of the question booklet and should ask the invigilator for replacement.
4. **For each question, four suggested answers A, B, C, D are given. The candidate is to choose only one answer which he/she considers the correct or the best one. If candidate darkens more than one circle or cutting/overwriting/erasing (by eraser, white fluid or any other chemicals) then such answer(s) shall not be evaluated.**
5. The answers should be marked by darkening appropriate circle provided in front of the concerned serial number on the OMR Sheet only with **black/blue pen. Use of pencil is not allowed.** For instance, while answering the Question No.26 of the question booklet, the correct answer A or B or C or D at serial No. 26 of OMR sheet should only be darkened.
6. The candidate should be careful in handling the question-paper and in darkening the answers on the OMR Sheet. **The second question booklet/OMR sheet will not be supplied in case there is no discrepancy in the booklet/OMR sheet already supplied.**
7. Bringing of incriminating materials/electronic gadgets/devices including cell phone in the premises of the examination centre is strictly prohibited. Possessing of incriminating materials electronic gadgets/ devices and any other aiding material in the examination room will be a serious offence and it will attract the cancellation of the candidature.
8. The candidate will not be permitted to leave the examination hall before the conclusion of the test. The candidate should make sure that question-booklet including OMR sheet is handed over to the invigilator before leaving the examination hall at the end of the test, failing which, a case of use of unfair-means/ misbehavior will be registered against him/her, in addition to lodging of an FIR with the police. Further, OMR sheet of such a candidate will not be evaluated.
9. The candidate can do rough-work on the back of the title cover of question booklet. Rough-work on OMR sheet is **prohibited**.
10. ***Mobile Phones are not at all allowed inside the Examination Hall.***
11. It is for the information that entire examination shall be recorded by video camera and impersonation shall lead to disqualification and registration of Police Case.
12. Calculator is not allowed.

SEAL

DOMAIN KNOWLEDGE

1. What does the following sign indicate



- (A) Drive the vehicle not exceeding 50 km/hr
- (B) Drive the vehicle at 50 km/hr
- (C) Drive the vehicle exceeding 50 km/hr
- (D) None of the above

निम्नलिखित संकेत क्या दर्शाता है ?



- (A) वाहन 50 किमी/घंटा से अधिक न चलाएँ
- (B) 50 किमी/घंटा पर वाहन चलाएँ
- (C) 50 किमी/घंटा से अधिक न चलाएँ
- (D) उपर्युक्त में से कोई नहीं

2. The following sign represents :



- (A) Narrow road ahead
- (B) Y-intersection
- (C) Road widens ahead
- (D) Curved road ahead

निम्नलिखित संकेत दर्शाता है :



- (A) आगे संकीर्ण सड़क है (B) Y-चौराहे
(C) आगे सड़क चौड़ी है (D) आगे घुमावदार सड़क है

3. Parking is prohibited in the following place :

- (A) Blocking a fire hydrant
(B) Near a public well
(C) Left side of the road
(D) Right side of the road

निम्नलिखित स्थान पर पार्किंग निषिद्ध है :

- (A) फायर हाइड्रेंट को अवरुद्ध करना
(B) एक सार्वजनिक कूर्प के पास
(C) सड़क के बायीं ओर
(D) सड़क के दायीं ओर

4. Free passage should be given to the following vehicles :

- (A) Police vehicles
(B) Ambulance and fire services
(C) Express and superexpress buses
(D) Private vehicles

निम्नलिखित वाहनों को खुला मार्ग दिया जाना चाहिए :

- (A) पुलिस के वाहन
(B) एम्बुलेंस और अग्निशमन सेवाएँ
(C) एक्सप्रेस और सुपरएक्सप्रेस बसें
(D) निजी वाहन

5. The following sign represents.



- (A) Restriction ends (B) No overtaking
(C) No entry (D) No parking

निम्नलिखित संकेत दर्शाता है :



- (A) प्रतिबंध समाप्त (B) ओवरटेकिंग नहीं
(C) प्रवेश निषेध (D) पार्किंग नहीं

6. Which of these places is the use of horn prohibited ?

- (A) Near temples, mosques and churches
(B) Near hospitals and courts of law
(C) Near police station
(D) Near bus stop

इनमें से कौनसा स्थान हॉर्न निषिद्ध का उपयोग है ?

- (A) मंदिरों, मस्जिदों और चर्चों के पास
(B) अस्पतालों और कानून की अदालतों के पास
(C) पुलिस स्टेशन के पास
(D) बस स्टॉप के पास

7. ✓ Where you are approaching an intersection where the yellow signal light is blinking, what should you do ?

- (A) As there is no restriction, proceed at the same speed
- (B) Stop the vehicle and wait for the green light to turn on
- (C) Slow down the vehicle and proceed only if it is safe to do so
- (D) None of the above

जहाँ आप एक चौराहे के पास पहुँच रहे हैं, जहाँ पीली सिग्नल लाइट झपक रही है, आपको क्या करना चाहिए ?

- (A) जैसा कि कोई प्रतिबंध नहीं है, उसी गति से आगे बढ़ें
- (B) वाहन रोकें और हरी बत्ती के चालू होने की प्रतीक्षा करें
- (C) वाहन को धीमा करें और सुरक्षित होने पर ही आगे बढ़ें
- (D) उपर्युक्त में से कोई नहीं

8. ✓ The number of passengers permitted to be take in a private vehicle is recorded in :

- (A) Tax token
- (B) Registration certificate
- (C) Permit
- (D) Pollution certificate

निजी वाहन में ले जाने की अनुमति देने वाले यात्रियों की संख्या दर्ज की गई है :

- (A) कर टोकन
- (B) पंजीकरण प्रमाण-पत्र *
- (C) परमिट
- (D) प्रदूषण प्रमाण-पत्र

9. What is the police indicating with this sign ?



- (A) Request the vehicles from the behind to pass
- (B) Request the vehicles from the behind to stop
- (C) Request the vehicles from the front to stop
- (D) Request all vehicles from behind to turn right

पुलिस इस संकेत के साथ क्या संकेत दे रही है ?



- (A) वाहनों को पीछे से गुजरने का अनुरोध करें
- (B) पीछे से आने वाले वाले वाहनों को रुकने के लिए अनुरोध करें
- (C) सामने से आने वाले वाहनों को रोकने का अनुरोध करें
- (D) पीछे से आने वाले वाहनों को दाएं मुड़ने के लिए अनुरोध करें

10. Overtaking is prohibited in the following case :

- (A) Narrow bridge
- (B) State highway
- (C) National highway
- (D) Panchayat roads

निम्नलिखित मामलों में ओवरटेकिंग निषिद्ध है :

- (A) तंग पुल (B) स्टेट हाईवे
(C) राष्ट्रीय हाईवे (D) पंचायत की सड़कें

11. Driving in reverse gear is not allowed on :

- (A) One-way road (B) Descending road
(C) Ascending road (D) All of these

रिवर्स गियर में ड्राइविंग की अनुमति नहीं है :

- (A) चन-चे सड़क (B) अवरोही सड़क
(C) आरोही सड़क (D) ये सभी

12. What does the following sign indicate ?



- (A) Speed limit - 2 km/hr.
(B) No entry for vehicles having more than 2 metres width.
(C) No entry for vehicles having more than 2 metres height.
(D) None of the above

निम्नलिखित संकेतक क्या दर्शाता है ?



- (A) गति सीमा-2 किमी/घंटा
(B) 2 मीटर से अधिक चौड़ाई वाले वाहनों के लिए कोई प्रवेश नहीं
(C) 2 मीटर से अधिक ऊँचाई वाले वाहनों के लिए कोई प्रवेश नहीं
(D) उपर्युक्त में से कोई भी नहीं

13. Before overtaking a vehicle it should be ensured that :

- (A) No vehicle is approaching from behind
- (B) The road ahead is clearly visible and it is safe to overtake
- (C) The vehicle in front is turning left
- (D) All of the above

वाहन को ओवरटेक करने से पहले यह सुनिश्चित करना चाहिए कि :

- (A) पीछे से कोई वाहन नहीं आ रहा है
- (B) आगे की सड़क साफ दिख रही है और आगे निकल जाना सुरक्षित है
- (C) सामने वाहन बाएँ मुड़ रहा है
- (D) उपर्युक्त सभी

14. What part keeps contaminants from getting to the combustion chamber ?

- (A) Carburetor
- (B) Fuel injector
- (C) Fuel lines
- (D) Fuel filter

ईंधन में दूषित पदार्थ को कम्बर्शन चैम्बर में जाने से कौनसा भाग रोकता है ?

- (A) कार्बुरेटर
- (B) फ्यूल इंजेक्टर
- (C) फ्यूल लाइन्स
- (D) फ्यूल फिल्टर

15. Which system controls the temperature of the engine ?

- (A) Ignition
- (B) Heating
- (C) Coolant
- (D) Fuel

इंजन के तापमान को कौनसी चीज नियंत्रित करती है ?

- (A) इग्निशन
- (B) हीटिंग
- (C) कूलेंट
- (D) ईंधन

16. How do you know if you have a problem with the suspension or steering system ?

- ✓ (A) Your car does not steer properly
(B) Leaks
(C) Uneven tire wear
(D) All of the above

आपको कैसे पता चलेगा कि आपको सस्पेंशन या स्टीयरिंग प्रणाली में कोई समस्या है ?

- (A) आपकी कार ठीक से नहीं चलती है
(B) लीक्स
(C) असमान टायर एंड टायर
(D) उपर्युक्त सभी

17. The part of the brake that applies the pressure against the drum is called :

- ✓ (A) Boot (B) Thong
(C) Flipper (D) Shoe

ड्रम के खिलाफ प्रेशर लागू करने वाले ब्रेक के हिस्से को कहा जाता है :

- (A) बूट (B) थॉंग
(C) फ्लिपर (D) शू

18. What travels from the brake pedal to the brakes to apply the force to stop the car ?

- ✓ (A) Force (B) Friction
(C) Disc (D) Brake fluid

कार को रोकने के लिए ब्रेक पर फोर्स लगाने से, ब्रेक पैडल से ब्रेक तक क्या बहता है ?

- (A) फोर्स (B) फ्रिक्शन
(C) डिस्क (D) ब्रेक फ्लूइड

19. What will likely happen if you open a hot radiator cap ?

- (A) You will burn your hand
- (B) You will be able to check the level of the fluid inside
- (C) You will be sprayed with scalding water
- (D) You will burn the cap

यदि आप गर्म रेडिएटर कैप खोलते हैं तो क्या होगा ?

- (A) आप अपना हाथ जलाओगे
- (B) आप अंदर फ्लुइड पदार्थ के स्तर की जाँच करने में सक्षम होंगे
- (C) आपको उबलते पानी या भाप का छिड़का लगेगा
- (D) कैप जल जाएगी

20. Which is a fuel-saving myth ?

- (A) Buying fuel in the morning when temperatures are cooler gets you a denser, better quality of fuel
- (B) Properly inflated tires can help you increase fuel mileage
- (C) Using an incorrect weight of motor oil can affect your fuel mileage
- (D) Driving at high speed can increase fuel mileage

ईंधन बचाने वाला मिथक कौनसा है ?

- (A) सुबह के समय ईंधन खरीदना जब तापमान ठंडा होता है तो आपको ईंधन की बेहतर गुणवत्ता होती है
- (B) उचित रूप से फुलाए हुए टायर आपको माइलेज बढ़ाने में मदद कर सकते हैं
- (C) एक गलत मोटर तेल का उपयोग आपके माइलेज को प्रभावित कर सकता है
- (D) तेज गति से वाहन चलाने से फ्यूल माइलेज बढ़ सकता है

21. What is this picture :



(A) Spark Plugs

(B) Knock Sensors

(C) Injectors

(D) Safety Pins

यह तस्वीर किस चीज की है ?



(A) स्पार्क प्लग

(B) नॉक सेंसर

(C) इंजेक्टर

(D) सेफ्टी पिन

22. What is this picture ?



(A) Cylinder Head

(B) Short Engine

(C) Valve Cover

(D) Break Assembly

यह तस्वीर किस चीज की है ?



(A) सिलिंडर हेड

(B) शॉर्ट इंजन

(C) वाल्व कवर

(D) ब्रेक असेंबली

M-6-A

23. What is this picture ?



- (A) Clutch Plate (B) Flywheel
(C) Pressure Plate (D) Wheel Plate

यह तस्वीर किस चीज की है ?



- (A) क्लच प्लेट (B) फ्लाई व्हील
(C) प्रेशर प्लेट (D) व्हील प्लेट

24. With this picture we can tell the car is.....



- (A) NOS Injected (B) Fuel Injected
(C) Multipoint Fuel Injected (D) None of these

इस तस्वीर के साथ हम बता सकते हैं कार..... है ।



- (A) NOS इंजेक्टेड (B) फ्यूल इंजेक्टेड
(C) मल्टीपॉइंट फ्यूल इंजेक्टेड (D) इनमें से कोई नहीं

25. What is this picture ?



(A) Clutch Disc

(B) Pressure Plate

(C) Flywheel

(D) Wheel Plate

यह तस्वीर किस चीज की है ?



(A) क्लच डिस्क

(B) प्रेशर प्लेट

(C) फ्लाइंग व्हील

(D) व्हील प्लेट

26. What is this picture ?



(A) Suspension Springs

(B) Clutch Springs

(C) Valve Springs

(D) Spring Rolls

यह तस्वीर किस चीज की है ?



(A) सस्पेंशन स्प्रिंग्स

(B) क्लच स्प्रिंग्स

(C) वाल्व स्प्रिंग्स

(D) स्प्रिंग रोल्ल्स

27. Where does the current go when the key is turned ?

- (A) To the battery
- (B) To the starter
- (C) To the brakes
- (D) To the engine

जब चाबी घुमाने से चालू होने पर करंट कहाँ जाता है ?

- (A) बैटरी को
- (B) स्टार्टर को
- (C) ब्रेक को
- (D) इंजन को

28. What is this picture ?



- (A) Pressure Plate
- (B) Flywheel
- (C) Wheel Plate
- (D) Clutch Disc

यह तस्वीर किस चीज की है ?



- (A) प्रेशर प्लेट
- (B) फ्लाय व्हील
- (C) व्हील प्लेट
- (D) क्लच डिस्क

✓ 29. The battery is made of lead, water and.....

- (A) Paint
- (B) Battery fluid
- (C) Gasoline
- (D) Sulfuric acid

बैटरी सीसा, पानी और.....से बनी है ।

- (A) पेंट
- (B) बैटरी फ्लूइड
- (C) गैसोलिन
- (D) सल्फ्यूरिक एसिड

✓ 30. What part of the electrical system keeps the battery charged ?

- (A) Engine
- (B) Brakes
- (C) Alternator
- (D) Battery Cables

विद्युत प्रणाली का कौनसा भाग बैटरी को चार्ज रखता है ?

- (A) इंजन
- (B) ब्रेक
- (C) अल्टरनेटर
- (D) बैटरी केबल्स

ENGLISH

31. India will become.....super power shortly.

- (A) a (B) an
(C) the (D) no article

32. The following sentence is divided into parts. One of these parts may contain an error. Mark that part as your answer. (Ignore punctuation error).

They had / better wait / than to / go.

- (A) They had (B) better wait
(C) than to (D) go

33. Choose the word which is the exact OPPOSITE of the word given below :

Mighty

- (A) Haughty (B) Forceful
(C) Tough (D) Weak

34. Choose the alternative which best expresses the meaning of the following Idiom/Phrase.....

To be well off :

- (A) Quite far away (B) To be in comfortable circumstances
(C) Distant (D) Unrelated

35. Choose the synonym of :

Cancel

- (A) Allow (B) Break
(C) Abolish (D) Approve

- ✓ 36. Find out the proper order for the given four parts of a sentence to complete the sentence :

P : if it was time to go yet

Q : and ran downstairs to see

R : Raju jumped out of bed

S : on Saturday morning

The proper sequence should be :

(A) SRQP

(B) SPRQ

(C) RQSP

(D) SRQP

- ✓ 37. I had already published a novel and it was an unexpected success. I thought my.....

(A) days were up

(B) chances were good

(C) lady luck was happy

(D) fortune was made

- ✓ 38. Fill in the blanks :

There are.....views on the issue of giving house to the employees.

(A) independent

(B) divergent

(C) modest

(D) adverse

39. Read the passage and answer the question :

Dolphins are regarded as the friendliest creatures in the sea and stories of them helping drowning sailors have been common since Roman times. The more we learn about dolphins, the more we realize that their society is more complex than people previously imagined. They look after other dolphins when they are ill, care for pregnant mothers and protect the weakest in the community, as we do. Some scientists have suggested that dolphins have a language but it is much more probable that they communicate with each other without needing words. Could any of these mammals be more intelligent than man ? Certainly the most common argument in favor of man's superiority over them that we can kill them more easily than they can kill us is the least satisfactory. On the contrary, the more we discover about these remarkable creatures, the less we appear superior when we destroy them.

It is clear from the passage that dolphins.....

- (A) don't want to be with us as much as we want to be with them
- (B) are proven to be less intelligent than once thought
- (C) have a reputation for being friendly to humans
- (D) are the most powerful creatures that live in the oceans

40. Choose the answer that names the part of speech of the **bold word** in the following sentence :

Farmers had **very** poor crops this year.

- (A) Noun
- (B) Pronoun
- (C) Verb
- (D) Adverb

HINDI

41. राष्ट्रभाषा कहलाती है :
- (A) संविधान द्वारा स्वीकृत भाषा
(B) सरकारी काम-काज की भाषा
(C) बहुसंख्यक देशवासियों द्वारा प्रयोग की जाने वाली भाषा
(D) साहित्य सृजन की भाषा
42. जीतने की इच्छा रखने वाला कहलाता है :
- (A) उन्माद (B) जिगेषु
(C) आकांक्षी (D) जिगीषा
43. समूहवाचक संज्ञा है :
- (A) अंगूर (B) गुलाब
(C) चावल (D) पीपे
44. 'निर्धन' शब्द में कौन-सा समास है ?
- (A) कर्मधारय (B) तत्पुरुष
(C) द्वन्द्व (D) बहुव्रीहि
45. 'आँखों' में खून उतरना' मुहावरे का अर्थ कौन-सा है ?
- (A) बीमार होना
(B) विनाश करना
(C) क्रोध में अशब्द कहना
(D) क्रोध से आँख-मुँह लाल होना

46. हिन्दी वर्णमाला में कितने संयुक्त व्यंजन हैं ?

- (A) तीन (B) चार
(C) सात (D) पाँच

47. 'चिड़िया' का बहुवचन क्या होगा ?

- (A) चिड़ियाँ (B) चिड़ियाओं
(C) चिड़ियों (D) ये सभी

48. वर्णों के समूह को क्या कहते हैं ?

- (A) समूह शब्द
(B) संयुक्त शब्द
(C) वर्णमाला
(D) इनमें से कोई नहीं

49. 'बाबा बटेसरनाथ' के लेखक हैं :

- (A) नागार्जुन
(B) एजेन्द्र यादव
(C) महादेवी वर्मा
(D) नामवर सिंह

50. सही वर्तनी के लिए विकल्प चुनिए :

- (A) अवस्थापना
(B) आवस्थापना
(C) अवसथापनो
(D) अवास्थापना

ELEMENTARY MATHEMATICS

51. $0.003 \times 0.02 =$

- (A) 0.06 (B) 0.006
(C) 0.0006 (D) 0.00006

52. $2 + 2 - 2 \times 2 + 2 =$

- (A) 0 (B) 1
(C) 2 (D) 4

53. What is the average of the numbers : 0, 0, 4, 10, 5 and 5 ?

- (A) 2 (B) 3
(C) 4 (D) 5

संख्याओं का औसत क्या है : 0, 0, 4, 10, 5 तथा 5 ?

- (A) 2 (B) 3
(C) 4 (D) 5

54. Maria has taken 6 exams and her average marks so far are 89. If she gets 100, a perfect score on the remaining 2 exams, what will her new average be ?

- (A) 90.75 (B) 91.75
(C) 92.00 (D) 92.25

मारिया ने 6 परीक्षाएँ ली हैं और उनके अब तक के औसत अंक 89 हैं। यदि शेष 2 परीक्षाओं में 100 में 100 अंक मिले हैं, तो उसका नया औसत क्या होगा ?

- (A) 90.75 (B) 91.75
(C) 92.00 (D) 92.25

55. Complete the sequence : 2, 3, 5, 7, 11, 13, __, __, 23, 29.

(A) 15, 17

(B) 15, 19

(C) 17, 19

(D) 17, 21

अनुक्रम पूरा कीजिए : 2, 3, 5, 7, 11, 13, __, __, 23, 29.

(A) 15, 17

(B) 15, 19

(C) 17, 19

(D) 17, 21

56. What is the rate of discount if a bicycle which cost Rs. 4,000 is sold for Rs. 3,200 ?

(A) 14%

(B) 16%

(C) 18%

(D) 20%

यदि एक साइकिल की कीमत 4,000 रु. है उसे 3,200 रु. में बेचा जाता है, तो छूट की दर क्या है ?

(A) 14%

(B) 16%

(C) 18%

(D) 20%

57. $|-4| + |4| - 4 + 4 = ?$

(A) 0

(B) 2

(C) 4

(D) 8

58. If :

$$\frac{x}{2} + 4 = \frac{7}{2}$$

then $x = ?$

(A) -2

(B) -1

(C) 1

(D) 2

यदि :

$$\frac{x}{2} + 4 = \frac{7}{2}$$

तब $x = ?$

- (A) -2 (B) -1
(C) 1 (D) 2

59. In a mixture 60 litres, the ratio of oil and petrol is 2 : 1. If this ratio is to be 1 : 2, then the quantity of petrol to be further added is :

- (A) 20 litres (B) 30 litres
(C) 40 litres (D) 60 litres

60 लीटर मिश्रण में, तेल और पेट्रोल का अनुपात 2 : 1 है। यदि यह अनुपात 1 : 2 है, तो मिश्रण में पेट्रोल को कितनी मात्रा डालनी है ?

- (A) 20 लिटर (B) 30 लिटर
(C) 40 लिटर (D) 60 लिटर

60. Ram sold his car for Rs 25,000 at which he suffered 20% loss. Find the purchase price of the car :

- (A) 31,000 (B) 31,500
(C) 31,250 (D) 32,000

राम ने अपनी कार 25,000 रुपये में बेची जिस पर उन्हें 20% का नुकसान हुआ। कार के खरीद मूल्य का पता लगाए :

- (A) 31,000 (B) 31,500
(C) 31,250 (D) 32,000

61. A sum of money is to be distributed among A, B, C, D in the proportion of $5 : 2 : 4 : 3$. If C gets Rs. 2,000 more than B, what is B's share :

(A) 9,000

(B) 5,000

(C) 4,000

(D) 2,000

$5 : 2 : 4 : 3$ के अनुपात में A, B, C, D के बीच धनराशि वितरित की जानी है ।
यदि C को B से 2,000 रुपये अधिक मिलते हैं, तो B का हिस्सा क्या है ?

(A) 9,000

(B) 5,000

(C) 4,000

(D) 2,000

62. What is the value of x in $3x - 15 - 6 = 0$?

(A) 7

(B) 8

(C) 9

(D) -9

$3x - 15 - 6 = 0$ में x का मान क्या है ?

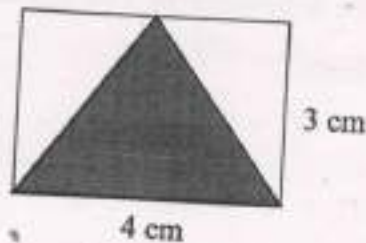
(A) 7

(B) 8

(C) 9

(D) -9

63. What is the area in cm^2 of the shaded region in the diagram below



(A) 6

(B) 7

(C) 8

(D) 9

नीचे आरेख में छायांकित क्षेत्र के वर्ग सेमी. में क्षेत्रफल क्या है ?



- (A) 6 (B) 7
(C) 8 (D) 9

64. If A completes a particular work in 8 days and B the same work in 24 days, how many days will it take if they work together ?

- (A) 4 (B) 5
(C) 6 (D) 7

यदि A किसी कार्य को 8 दिन में पूरा करता है और B उसी कार्य को 24 दिनों में पूरा करता है, यदि वे एक साथ काम करते हैं तो कितने दिन लगेंगे ?

- (A) 4 (B) 5
(C) 6 (D) 7

65. If it takes 3 hours to drive a distance of 192 km on a car, what would be your average speed of car in km/h ?

- (A) 62 km per hour
(B) 64 km per hour
(C) 66 km per hour
(D) 68 km per hour

यदि कार से 192 किमी. की दूरी तय करने में 3 घंटे लगते हैं, तो किमी/घंटा में आपकी कार की औसत गति क्या होगी ?

- (A) 62 किमी./घण्टा
(B) 64 किमी./घण्टा
(C) 66 किमी./घण्टा
(D) 68 किमी./घण्टा

66. What is the distance travelled by a car which travelled at a speed of 80 km/hr for 3 hours and 30 minutes ?

- (A) 275 km (B) 280 km
(C) 285 km (D) 290 km

एक कार द्वारा तय की गई दूरी क्या है जो 3 घंटे 30 मिनट के लिए 80 किमी/घंटा की गति से यात्रा करती है ?

- (A) 275 किमी. (B) 280 किमी.
(C) 285 किमी. (D) 290 किमी.

67. In a class of 40 students 20% are girls. How many boys are there in the class ?

- (A) 26 (B) 28
(C) 30 (D) 32

40 छात्रों की एक कक्षा में 20% लड़कियाँ हैं। कक्षा में कितने लड़के हैं ?

- (A) 26 (B) 28
(C) 30 (D) 32

68. The angle between minute and hour hand of a clock when the time is 8.30 is :

- (A) 65 (B) 75
(C) 85 (D) 90

एक घड़ी में समय 8.30 बजे मिनट और घंटे की सुई के बीच का कोण होगा ?

- (A) 65 (B) 75
(C) 85 (D) 90

69. If the day before yesterday was Saturday, what day will fall on the day after tomorrow ?

- (A) Friday (B) Thursday
(C) Wednesday (D) Tuesday

यदि कल से पहले का दिन शनिवार था, तो परसों कौनसा दिन पड़ेगा ?

- (A) शुक्रवार (B) गुरुवार
(C) बुधवार (D) मंगलवार

70. Shubham's driver slept at 7.45 p.m.. If he rose at 12 noon, for how many hours did he sleep ?

- (A) 5 hours 15 min. (B) 16 hours 15 min.
(C) 12 hours. (D) 6 hours 45 min.

शुभम का ड्राइवर 7.45 बजे सायं सोया था । अगर वह दोपहर 12 बजे उठता है, तो वह कितने घंटे सोता है ?

- (A) 5 घंटे 15 मिनट (B) 16 घंटे 15 मिनट
(C) 12 घंटे (D) 6 घंटे 45 मिनट

GENERAL AWARENESS & PSYCHOMETRIC

71. Search for the letters K and T and report their number of occurrences :

N G D H U W D E H S K F H H K U A L H P
 Y H G J H Q C Q L V S H E T W I H H R K
 J N U K S G V S F X N G S S A T U T E I
 D J J V A L H F S H J S E E T L J O H H
 S U U C H M U G F S J K V H D A N U K S

- (A) 4 K and 4 T (B) 5 K and 4 T
 (C) 6 K and 4 T (D) 6 K and 5 T

K और T अक्षरों की खोज कीजिए और उनकी घटनाओं की संख्या की रिपोर्ट कीजिए :

N G D H U W D E H S K F H H K U A L H P
 Y H G J H Q C Q L V S H E T W I H H R K
 J N U K S G V S F X N G S S A T U T E I
 D J J V A L H F S H J S E E T L J O H H
 S U U C H M U G F S J K V H D A N U K S

- (A) 4 K तथा 4 T (B) 5 K तथा 4 T
 (C) 6 K तथा 4 T (D) 6 K तथा 5 T

72. I get into heated arguments when people disagree with me :

- (A) Strongly agree
 (B) Agree
 (C) Somewhat agree
 (D) Disagree

जब लोग मुझसे असहमत होते हैं तो मैं गर्म बहस में पड़ जाता हूँ :

- (A) दृढ़तापूर्वक सहमत
 (B) सहमत
 (C) थोड़ा सहमत
 (D) असहमत

73. The only good job is one that pays a lot of money.

(A) Strongly agree

(B) Agree

(C) Somewhat agree

(D) Disagree

एकमात्र अच्छा काम वह है जो बहुत सारा पैसा देता है ।

(A) दृढ़तापूर्वक सहमत

(B) सहमत

(C) थोड़ा सहमत

(D) असहमत

74. I believe in taking risks, because when your luck is with you, it's all fine.

(A) Strongly agree

(B) Agree

(C) Somewhat agree

(D) Disagree

मैं जोखिम लेने में विश्वास करता हूँ, क्योंकि जब आपकी किस्मत आपके साथ होती है, तो वह ठीक है :


(A) दृढ़तापूर्वक सहमत

(B) सहमत

(C) थोड़ा सहमत

(D) असहमत


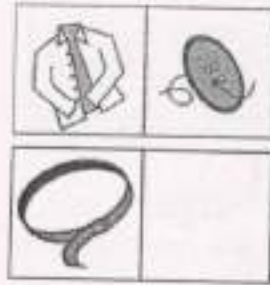
75. Of the four choices, choose the picture that would go in the empty box so that the two bottom pictures are related in the same way as the top two are related.




चार विकल्पों में से, उस चित्र को चुनिए जो खाली बॉक्स में जाएगा ताकि दो नीचे के चित्र उसी तरह संबंधित हों जैसे शीर्ष के दो संबंधित हैं ।



76/ Of the four choices, choose the picture that would go in the empty box so that the two bottom pictures are related in the same way as the top two are related



चार विकल्पों में से, उस चित्र को चुनिए जो खाली बॉक्स में जाएगा ताकि दो नीचे के चित्र उसी तरह संबंधित हों जैसे शीर्ष के दो संबंधित हैं ।



77. The day after the day after tomorrow is four days before Monday. What day is it today ?

- (A) Tuesday (B) Friday
(C) Monday (D) Sunday

कल के बाद के दिन के बाद का दिन सोमवार से चार दिन पहले का है। आज कौनसा दिन है ?

- (A) मंगलवार (B) शुक्रवार
(C) सोमवार (D) रविवार

78. I want to have things immediately, without being able to wait.

- (A) Strongly agree (B) Agree
(C) Somewhat agree (D) Disagree

मैं चीजों को तुरंत चाहता हूँ, बिना इंतजार किए।

- (A) दृढ़तः सहमत (B) सहमत
(C) थोड़ा सहमत (D) असहमत

79. When a doctor prescribes drugs which are likely to affect your driving, You should:

- (A) Not take the medicine
(B) Take a small dose of Medicine
(C) Have few cups of tea/coffee
(D) Not drive

जब एक चिकित्सक दवा को निर्धारित करता है जो आपकी ड्राइविंग को प्रभावित करने के लिए संभव है, तो आपको चाहिए :

- (A) दवा न लें
(B) दवा की एक छोटी खुराक लें
(C) दवा के साथ चाय/कॉफी लें
(D) दवा न लें

80. If my passenger(s) try to pressure me to drive faster, I :

- (A) Ignore them (B) Argue with them
(C) Refuse politely (D) None of these

यदि मेरा यात्री मुझ पर और अधिक तेजी से गाड़ी चलाने का दबाव बनाने की कोशिश करता है, तो मैं :

- (A) उन पर ध्यान न दूँ (B) उनके साथ बहस करूँ
(C) विनम्रता से मना करूँ (D) इनमें से कोई नहीं

81. I believe there's nothing wrong with breaking a few traffic regulations as long as you have good reflexes (are an alert driver).

- (A) Strongly agree (B) Agree
(C) Somewhat agree (D) Disagree

मेरा मानना है कि कुछ यात्रायात नियमों को तोड़ने में कुछ भी गलत नहीं है तब तक आपके पास अच्छे रिफ्लेक्स हैं (एक सतर्क चालक हैं) :

- (A) दृढ़तापूर्वक सहमत (B) सहमत
(C) थोड़ा सहमत (D) असहमत

82. You are stuck in a traffic jam on a hot summer day. What do you normally do in this situation ?

- (A) I try to find a way to get through the traffic (e.g. drive on the shoulder of the road, zigzag through the cars, etc.).
(B) I vent my frustration by swearing or honking my horn.
(C) I catch up on work/homework.
(D) I just sit back and try my best to wait patiently.

आप यदि के लिए में ट्रैफिक जाम में फंस जाते हैं। इस स्थिति में आप सामान्य रूप से क्या करते हैं ?

- (A) मैं ट्रैफिक से गुजरने का एक तरीका खोजने की कोशिश करता हूँ (जैसे सड़क के किनारे इधर करना, कारों के माध्यम से जिगजैग, आदि)।
- (B) मैं अपनी इच्छा को दूर होने के लिए हॉर्न देता हूँ
- (C) मैं काम-होमवर्क पर पकड़ बनाता हूँ
- (D) मैं बस बैठ जाता हूँ और पूरी कोशिश करता हूँ कि धैर्य से इंतजार करें

83. You're about to enter a construction zone with speed limit of 20 km/h. No one seems to be following that speed limit, however; the other drivers are driving faster. How would you respond ?

- (A) I would speed up with the rest of traffic
- (B) I would slow down a little, but I wouldn't go the speed limit
- (C) I would slow down to the speed limit
- (D) None of the above

आप 20 किमी/घंटा की गति सीमा के साथ एक निर्माण क्षेत्र में प्रवेश करने वाले हैं। हालाँकि कोई भी उस गति सीमा का पालन नहीं करता है; अन्य चालक तेजी से गाड़ी चला रहे हैं। आप कैसे प्रतिक्रिया देंगे ?

- (A) मैं बाकी ट्रैफिक के साथ तेजी लाऊँगा
- (B) मैं थोड़ा धीमा हो जाऊँगा, लेकिन मैं गति सीमा के साथ नहीं जाऊँगा
- (C) मैं गति सीमा के अनुसार धीमा हो जाऊँगा
- (D) उपरोक्त में से कोई नहीं

84. Who is chancellor of State Government University in Haryana ?

- (A) Governor of Haryana
- (B) Chief Minister of Haryana
- (C) Education Minister of Haryana
- (D) None of the above.

हरियाणा में राज्य सरकारी विश्वविद्यालय के कुलपति कौन हैं ?

- (A) हरियाणा के राज्यपाल
- (B) हरियाणा के मुख्यमंत्री
- (C) हरियाणा के शिक्षा मंत्री
- (D) इनमें से कोई नहीं

85. Birthday of which of the following is celebrated on Basant Panchami ?

- (A) Swami Dayanand.
- (B) Chhotu Ram.
- (C) Sardar Patel.
- (D) Lal Bahadur Shashtri.

निम्नलिखित में से किसका जन्मदिन बसंत पंचमी पर मनाया जाता है ?

- (A) स्वामी दयानंद
- (B) छोटू राम
- (C) सरदार पटेल
- (D) लाल बहादुर शास्त्री

86. At which place of Haryana did Lord Krishna preach the message of Geeta ?

- (A) Ambala
- (B) Sonipat
- (C) Yamuna Nagar
- (D) Kurukshetra

हरियाणा के किस स्थान पर भगवान कृष्ण ने गीता का उपदेश दिया था ?

- (A) अंबाला
- (B) सोनीपत
- (C) यमुनानगर
- (D) कुरुक्षेत्र

87. With how many States does the boundary of Haryana touch ?

- (A) 4
- (B) 5
- (C) 6
- (D) 7

हरियाणा कितने राज्यों की सीमा को स्पर्श करता है ?

- (A) 4
- (B) 5
- (C) 6
- (D) 7

88. How many total No. of seats are there in Haryana's Assembly ?

(A) 75 (B) 80

(C) 85 (D) 90

हरियाणा की विधानसभा में कुल कितनी सीटें हैं ?

(A) 75 (B) 80

(C) 85 (D) 90

89. Which one of the following is situated in Gurugram of Haryana ?

(A) Manufacturing of Bajaj Motor Cycle

(B) Manufacturing of Maruti Cars

(C) Manufacturing of Tata-Sumo

(D) All the above.

निम्नलिखित में से कौनसा हरियाणा के गुरुग्राम में स्थित है ?

(A) बाजाज मोटर साइकिल का विनिर्माण

(B) मारुति कारों का विनिर्माण

(C) टाटा-सुमो का विनिर्माण

(D) उपरोक्त सभी

90. Who is famous with the name of Haryana Kesari ?

(A) Pt. Neki Ram Sharma (B) Devi Lal

(C) Bansi Lal (D) Bhagwat Dayal Sharma

हरियाणा केसरी के नाम से कौन प्रसिद्ध है ?

(A) पं. नेकी राम शर्मा (B) देवीलाल

(C) बंसी लाल (D) भागवत दयाल शर्मा

SVSU Recruitment Examination 2019
Loaded Key Sheet for : 07 - Driver , Set Code : A

Q.No.	Key	Q.No.	Key	Q.No.	Key	Q.No.	Key	Q.No.	Key
1	A	21	C	41	C	61	C	81	D
2	C	22	A	42	D	62	A	82	D
3	A	23	B	43	A	63	A	83	C
4	B	24	C	44	D	64	C	84	A
5	C	25	B	45	D	65	B	85	A
6	B	26	C	46	B	66	B	86	D
7	C	27	B	47	A	67	D	87	B
8	B	28	D	48	C	68	B	88	D
9	B	29	D	49	A	69	C	89	B
10	A	30	C	50	A	70	B	90	A
11	A	31	A	51	D	71	C	91	X
12	B	32	C	52	C	72	D	92	X
13	B	33	D	53	C	73	D	93	X
14	D	34	B	54	B	74	D	94	X
15	C	35	C	55	C	75	A	95	X
16	D	36	A	56	D	76	C	96	X
17	D	37	D	57	D	77	C	97	X
18	D	38	B	58	B	78	D	98	X
19	C	39	C	59	D	79	D	99	X
20	A	40	D	60	C	80	C	100	X

SVSU Recruitment Examination 2019
Loaded Key Sheet for : 07 - Driver , Set Code : B

Q.No.	Key	Q.No.	Key	Q.No.	Key	Q.No.	Key	Q.No.	Key
1	C	21	B	41	C	61	B	81	A
2	B	22	D	42	A	62	D	82	D
3	B	23	D	43	A	63	C	83	B
4	A	24	C	44	C	64	C	84	D
5	A	25	A	45	D	65	A	85	B
6	B	26	C	46	A	66	A	86	A
7	B	27	A	47	D	67	C	87	C
8	D	28	B	48	D	68	B	88	D
9	C	29	C	49	B	69	B	89	D
10	D	30	B	50	A	70	D	90	D
11	D	31	C	51	B	71	A	91	X
12	D	32	D	52	C	72	C	92	X
13	C	33	A	53	B	73	C	93	X
14	A	34	C	54	D	74	D	94	X
15	C	35	D	55	C	75	D	95	X
16	A	36	B	56	C	76	C	96	X
17	B	37	C	57	B	77	D	97	X
18	C	38	A	58	C	78	D	98	X
19	B	39	D	59	D	79	C	99	X
20	C	40	B	60	D	80	A	100	X

SVSU Recruitment Examination 2019
Loaded Key Sheet for : 07 - Driver , Set Code : C

Q.No.	Key	Q.No.	Key	Q.No.	Key	Q.No.	Key	Q.No.	Key
1	B	21	A	41	D	61	D	81	B
2	D	22	B	42	B	62	C	82	D
3	C	23	C	43	A	63	C	83	B
4	D	24	B	44	C	64	B	84	A
5	D	25	C	45	A	65	C	85	C
6	D	26	B	46	A	66	D	86	D
7	C	27	B	47	C	67	D	87	D
8	A	28	A	48	D	68	B	88	D
9	C	29	A	49	A	69	D	89	A
10	A	30	B	50	D	70	C	90	C
11	B	31	A	51	C	71	C	91	X
12	C	32	D	52	A	72	D	92	X
13	B	33	B	53	A	73	D	93	X
14	C	34	C	54	C	74	C	94	X
15	B	35	D	55	B	75	D	95	X
16	D	36	A	56	B	76	D	96	X
17	D	37	C	57	D	77	C	97	X
18	C	38	D	58	B	78	A	98	X
19	A	39	B	59	C	79	A	99	X
20	C	40	C	60	B	80	D	100	X

SVSU Recruitment Examination 2019
Loaded Key Sheet for : 07 - Driver , Set Code : D

Q.No.	Key	Q.No.	Key	Q.No.	Key	Q.No.	Key	Q.No.	Key
1	B	21	B	41	B	61	B	81	A
2	C	22	D	42	A	62	B	82	C
3	B	23	C	43	C	63	D	83	D
4	C	24	D	44	A	64	B	84	D
5	B	25	D	45	A	65	C	85	D
6	D	26	D	46	C	66	B	86	A
7	D	27	C	47	D	67	D	87	C
8	C	28	A	48	A	68	C	88	C
9	A	29	C	49	D	69	C	89	D
10	C	30	A	50	D	70	B	90	D
11	A	31	B	51	C	71	C	91	X
12	B	32	D	52	D	72	D	92	X
13	C	33	A	53	D	73	D	93	X
14	B	34	C	54	B	74	C	94	X
15	C	35	C	55	D	75	A	95	X
16	B	36	D	56	C	76	A	96	X
17	B	37	B	57	C	77	D	97	X
18	A	38	D	58	A	78	B	98	X
19	A	39	C	59	A	79	D	99	X
20	B	40	A	60	C	80	B	100	X